

Middeleeuwen

donderdag 25/06/2020

De guldensporenslag

OPDRACHT A: Los de vragen op

Vraag 1: leg kort “De Brugse Metten” uit.

In de vroege ochtend van 18 mei vond een heuse moordpartij plaats. Iedereen die de woorden “schild en vriend” maar dan in het oud-Nederlands gezegd, niet kon uitspreken, werd gedood.

Vraag 2: Op welke dag vond “De Guldensporenslag” plaats?

11 juli

Vraag 3: Welke 2 groepen streden tegen elkaar?

De leliaards tegen de klauwaards.

Vraag 4: Wat is het verschil tussen de beide groepen?

De leliaards zijn de rijke handelaren.

De klauwaards zijn de arme ambachtslieden.

Vraag 5: Waar speelde de slag zich af? Probeer specifiek te zijn.

In Kortrijk.

Vraag 6 : Waaraan heeft de Guldensporenslag zijn naam te danken?

Op het slagveld werden nadien meer dan 500 gulden sporen van gesneuvelde ridders opgeraapt. Vandaar de naam ‘guldensporenslag’.

Vraag 7: Wat is de link tussen 11 juli nu en de Guldensporenslag?

De overwinning bij Kortrijk, de guldensporenslag, bevrijdde onze gewesten van de Franse bezetting. De ambachtslieden bestuurden voortaan mee de steden. Om die reden vierden we op 11 juli de Vlaamse feestdag.


Middeleeuwen

donderdag 25/06/2020

OPDRACHT B: Tijdens de Guldensporenslag streden twee groepen tegen elkaar. Teken hier hun wapenschild en noteer kort de betekenis van de schilden. (Waarvoor staat het schild? Wat staat er afgebeeld?)

Schild 1: leliaard

Schild 2: klauwaards



Betekenis schild 1:

De 3 witte lelies staan ook op de Franse vlag, van wie de leliards steun kregen.


Betekenis schild 2:

De zwarte leeuw met rode klauwen staat voor Vlaanderen.

OPDRACHT C: Welke van de onderstaande koningen was Filips IV van Frankrijk? Omcirkel de juiste foto.


Middeleeuwen

donderdag 25/06/2020



OPDRACHT D: Tijdens de Guldensporenslag hadden de Vlamingen 2 belangrijke wapens. Teken en benoem ze.

Wapen 1: goedendag



Wapen 2: kruisboog



Middeleeuwen

donderdag 25/06/2020

OPDRACHT E: De Guldensporenslag vond plaats in Kortrijk. Zoek deze stad op de kaart.
Omcirkel.

