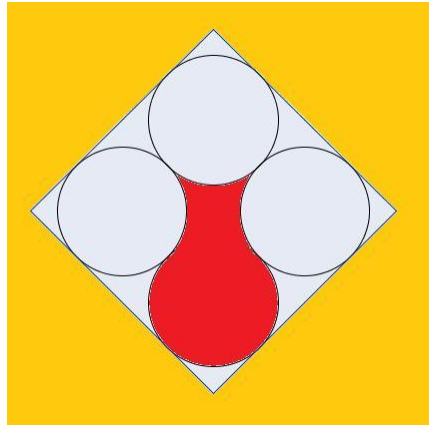


HET PROBLEEM MET DE KRUIK

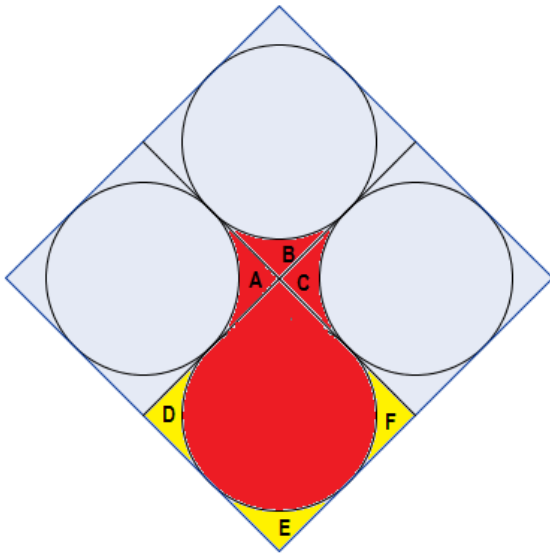
Op de onderstaande figuur staat een rode kruik afgebeeld.

Kan je die kruik in vier stukken opdelen
waarmee je een vierkant kunt vormen?

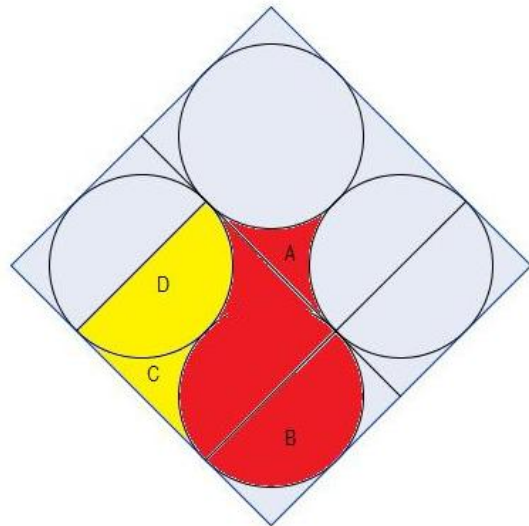
En lukt het ook om de kruik in drie stukken te verdelen
waarmee je dan weer een vierkant vormt?



OPLOSSING



Leg de rode stukken A, B en C
op de gele posities D, E en F.



Leg de rode stukken A en B
op de gele posities C en D.